

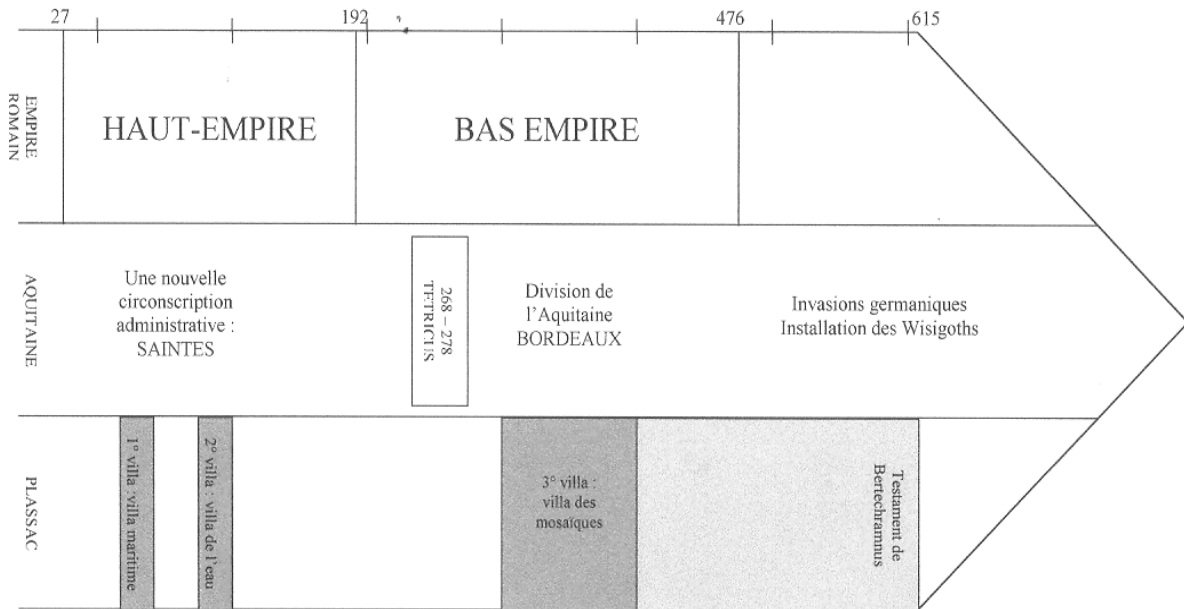
# La romanisation en Aquitaine à partir du site de Plassac

## Pourquoi les Romains s'installent-ils en Aquitaine?

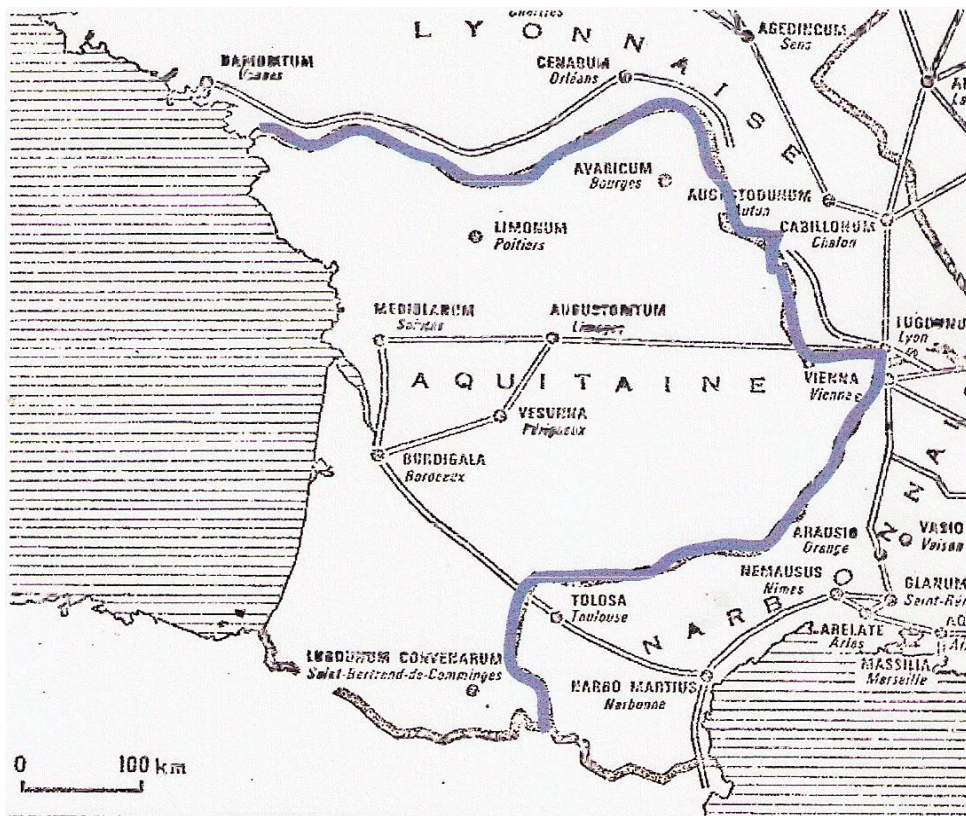
### Seconde Groupe1

Textes et documents des « Amis du Vieux Plassac »

Documents annexes : *chronologie comparative*



- Carte de l'Aquitaine romaine



# 1- L'Aquitaine est une province romaine

– Quand l'Aquitaine devient-elle romaine ?

En 57-56 av JC: « A la nouvelle de ce combat, la plus grande partie de l'Aquitaine se soumit à Crassus et envoya spontanément des otages... » J. César Guerre des Gaules III, 27.

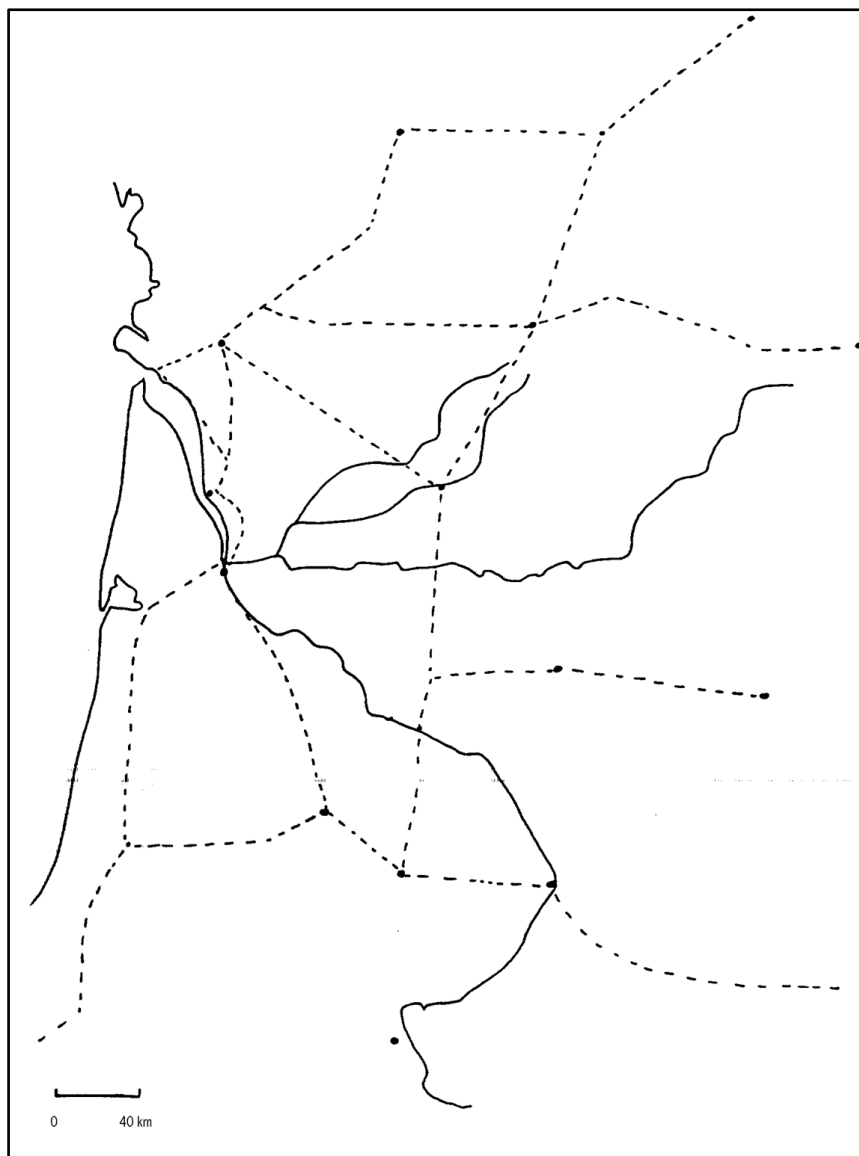
– Comment s'effectue cette conquête ? Moyens, durée ...

– L'Aquitaine devient une province romaine : qu'est-ce qu'une province ? Est-ce une province sénatoriale ou impériale ? Pourquoi cette différence ?

– Dessinez les limites de l'Aquitaine et indiquez les provinces limitrophes sur la carte ci-dessous.. Coloriez l'Aquitaine.

« Parlons à présent des Aquitains et de ces quatorze peuples de race galatique ou gauloise, habitant entre la Garounas (Garonne) et le Liger (Loire) et en partie aussi dans la vallée du Rhône et dans les plaines de Narbonnaise, qui ont été réunis administrativement à l'Aquitaine ». Strabon Géographie IV, 2

Doc 1: l'Aquitaine romaine



– Quelle est la capitale de l'Aquitaine au premier siècle ?

Au III<sup>e</sup> siècle ?

Sur le *doc 1*, placez ces deux villes et Plassac.

## 2- L'Aquitaine devient une province attractive pour les Romains

- Quels atouts géographiques et climatiques présente l'Aquitaine ?  
« *La Garonne, grossie des eaux de trois affluents, se jette dans l'Océan entre les Bituriges appelés Vivisques et les Santons, peuplades toutes deux gauloises. En effet, ces Bituriges sont la seule peuplade étrangère installée parmi les Aquitains; ils ne paient pas tribut et ils occupent comme ville-marché Bordeaux, située sur une espèce de bras de mer que fait l'estuaire du fleuve* » Strabon Géographie IV, 2,1.
- La conquête récente est aussi un atout : pourquoi ?
- Comment l'Aquitaine est-elle reliée au reste de l'Empire? Précisez les axes routiers sur le *doc 1*.

Quel autre moyen de transport est utilisé ?

- Que peut cultiver un Romain venant d'Italie du Sud (à partir du musée et des extraits ci-dessous) ?  
« *Tout le reste de la Gaule produit du blé et en grande quantité, ainsi que du millet, du gland et du bétail ...* » Strabon Géographie IV,1,2.  
« *Je cultive 200 jugères de champs, cent jugères de vignoble (environ 25 ha) et la moitié de prairies, les bois s'étendent sur plus du double des prés des vignes et terres labourables* » Ausone description d'un domaine de plus de 260 hectares.  
« *Le lin se sème surtout dans les lieux sablonneux et après un seul labour. Rien n'est plus hâtif...Les Gauls aussi sont estimées pour ce produit..? Les Gauls tout entières tissent des voiles.* » Plin l'Ancien Histoire naturelle XIX, II, 1.
  - Quelles autres richesses peuvent attirer les Romains ?
  - D'où vient le premier propriétaire ?
  - Quelle découverte archéologique permet de l'affirmer ?
-